

Die Weltbevölkerung

Leseverstehen: «Die Weltbevölkerung wächst – aber nicht mehr lange»

Auftrag: Auf einigen Kontinenten wird es in Zukunft zu einem Bevölkerungsrückgang kommen – in Europa schon ab kommendem Jahr. Lies den Artikel dazu genau durch und beantworte anschliessend die Fragen und löse die Aufgaben.

Link Artikel: <https://desktop.12app.ch/articles/30364936>

Alternative Quelle: <http://1001.li/weltbevölkerung>



Alternativ gibt es auch eine **Onlineübung** mit Fragen und Aufgaben zum Artikel: <https://onlineuebungen.schularena.com/sheets/vyjre>

1. Setze zwei Titel, die auch zum Text passen würden.

-
-

2. Die UNO hat ihre Bevölkerungsprognose für 2100 nach unten korrigiert. Heisst das, dass es 2100 weniger Menschen auf der Erde geben wird als jetzt?


.....
.....
.....
.....
.....
.....
.....
.....



3. *Jährliches Bevölkerungswachstum: Kreuze die drei falschen Aussagen an. Erkläre zu jeder falschen Aussage in einem kurzen Satz, was korrekt wäre.*



- A) Zwischen 1950 und heute wuchs die Weltbevölkerung jährlich um eins bis zwei Prozent an.
- B) Seit über fünfzig Jahren steigt die jährliche Wachstumsrate.
- C) Seit 1980 hat sich die Weltbevölkerung verdreifacht.
- D) Ende des Jahrhunderts wird die Wachstumsrate laut UNO bei 0,1% angelangt sein.
- E) 2100 wird die Wachstumsrate der Weltbevölkerung negativ sein.
- F) In immer mehr Ländern sinken die Geburtenraten.

Buchstabe:	Korrekte Antwort:



4. *Wie viele Kinder brachte eine Frau auf der Erde 1960 durchschnittlich auf die Welt, wie viele heute, und wie viele wird sie wahrscheinlich 2100 auf die Welt bringen? Male die Babys entsprechend aus.*





5. Was ist die «Generationen-Ausgleichsquote»? Wie hoch ist sie?

.....
.....

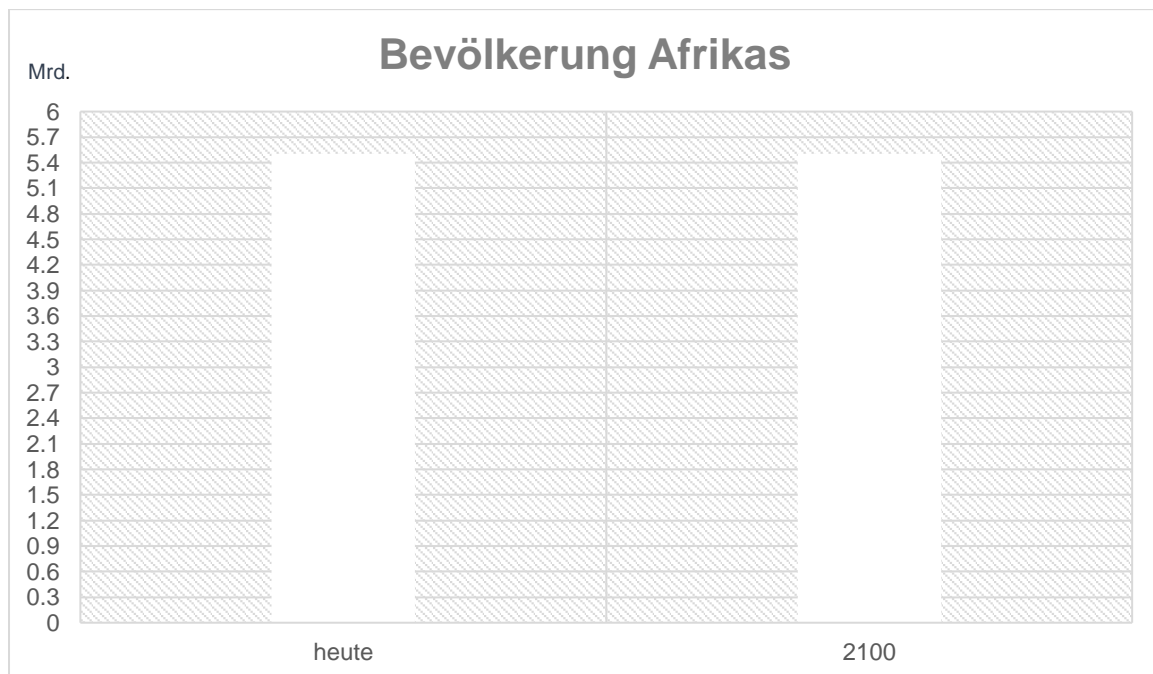
6. Wie viele Kinder hat eine Frau heute durchschnittlich in Asien, wie viele in Europa?



7. *Kreuze die richtigen Aussagen an.*

- Die Bevölkerung von Asien wird bis 2100 wachsen.
- Europa hat die tiefste Geburtenrate von allen Kontinenten.
- Ab 2045 wird die Bevölkerungszahl von Asien stagnieren.
- Bis 2100 wird die Bevölkerungszahl von Asien niemals zurückgehen.
- Ab 2021 wird die Bevölkerung Europas zunehmen.
- Heute leben in Europa 747 Milliarden Menschen.
- 2100 wird Asien etwa gleich viele Bewohner haben wie heute.
- 2100 werden in Europa 629 Millionen Menschen leben.

8. *Die Bevölkerung von Afrika wird sich bis 2100 mehr als verdreifachen. Zeichne in die Säulen die heutige afrikanische Bevölkerungszahl und jene von 2100 ein.*



9. *Was erfährt man über die Veränderung des Anteils an der Weltbevölkerung der verschiedenen Kontinente bis 2100? Ergänze die Tabelle.*

	Entwicklung heute - 2100
Asien	
Afrika	
Europa	
Lateinamerika	

10. Welche afrikanischen Länder werden wahrscheinlich 2100 zu den zehn bevölkerungsreichsten Ländern der Welt gehören? Zeichne sie ein.



11. Welches Land wird 2100 das bevölkerungsreichste sein (nicht in Afrika)?

.....

12. Mit welchen Problemen werden Afrika und Europa aufgrund der Bevölkerungszahlen in Zukunft zu kämpfen haben?

Afrika	
Europa	

Anhang: Bildnachweise / Lizenzen

Die in diesem Unterrichtsmaterial-Dossier verwendeten Bilder stammen von folgenden Quellen:

- Seite 1, Titelbild, Crowd at Knebworth House - Rolling Stones 1976, [Sérgio Valle Duarte](#), [Lizenztyp CC3](#)
- Seite 1, Icon, Computer, smartphone and tablet vector icons, [OpenClipart](#), [Lizenztyp CC0](#)
- Seite 1, Bild Gemeinschaft, Quelle: Pixabay
- Seite 2, Bild Mitte, Three Different colored humans vector clipart, [Rygle](#), [Lizenztyp CC0](#)
- Seite 2-3, Bild Baby Mädchen, [SVG SILH](#), [Lizenztyp CC0](#)
- Seite 3, Bild Blank Ma pof Eurasia, [Harbin](#), gemeinfrei
- Seite 5, Bild Karte, Political map of Africa, Sadalmelik, [Lizenztyp CC4](#)